

<範圍：L5~L6 >

【劃卡代號：53】

班級：

座號：

姓名：

※答案卡限用 2B 鉛筆劃記，答案請劃記明確；若有劃記錯誤，請擦拭乾淨。分數以電腦讀卡分數為準。

第一大題：(共20題，1~20題每題3分，共計60分)

請閱讀以下文章，並回答以下3問題：

立委提案廢鄉鎮市選舉 地方關切

立委提出「地方制度法部分條文修正案」，著眼於促使各縣市政府地位層級一致化，可說是「全國各縣市六都化」，讓「鄉、鎮、市」改制為「區」，修正人口少但民意代表多的現象。縮減政府層級從三級變為二級，早在前總統李登輝時期的國發會就取得朝野共識。換言之，讓「鄉、鎮、市」改制為「區」，是縣市政府比照六都層級的一個配套，同樣的改制過程，在過去十年於臺北縣、桃園縣、臺中縣、臺南縣和高雄縣陸續實施，各地也都順利完成改制，六都升格改制後讓121個鄉鎮市選舉自然消失，實施已近十年，政事運作順暢，因此有必要修法讓全國一致。

臺灣在民國99年前共有319個鄉鎮市採鄉鎮市選舉，在五都改制和桃園市升格後，僅剩198個鄉鎮市有鄉鎮市選舉。然而六都及三個省轄市人口占臺灣總人口的四分之三，卻只有市長及議員；其他13個縣人口僅占總人口數四分之一，卻不僅有縣長、議員，還有鄉鎮市長及代表，造成臺灣的地方自治「人口少，民意代表多」的現象。提案人鍾佳濱等19名立委提出的「地方制度法部分條文」修正案，是希望取消鄉(鎮、市)級自治選舉，不過為了落實原住民族自治精神，仍維持山地原住民鄉及直轄市山地原住民區的自治地位。

參考來源1.袁茵(2020.03.07)。各縣市六都化！19名綠委提「廢鄉鎮市選舉」

修正人口少、民代多現象。ET today新聞雲。

2.葉永霖(2020.03.07)。立委提案廢鄉鎮市選舉 地方關切。自由時報。

1. () 針對上文「全國各縣市六都化」的說明，下列何者最為正確？

- (A) 六都化主要是將省的層級虛級化，將二級機關調為三級機關
- (B) 六都化修法之後，仍必須得到地方立法機關的同意才能通過
- (C) 六都化是考量到人口數較少的縣市卻有較多的民選公職人員
- (D) 六都化修法之後，將促使山地原住民區的自治地位受到影響

2. () 若上文的「地方制度法部分條文修正案」三讀通過後，以下哪一種情形最可能發生？

- (A) 天然災害宣布停班停課等事務，仍由地方行政機關決定
- (B) 未來所有的鄉、鎮、市改制為區，皆成為地方自治團體
- (C) 當中央與地方權限發生爭議時，改由政府院長負責解決
- (D) 各地方的國防部軍事設施，則改由各地政府自行營運

3. () 本次修法若三讀通過後，有哪些民選的公職人員職位將隨之消失？

- (A) 縣(市)長
- (B) 縣(市)議員
- (C) 鄉(鎮、市)長
- (D) 原住民區區長

4. () 我國《公職人員選舉罷免法》規定，在選民行使選舉權的過程中，下列哪一個原則有助於消除財產和階級歧視？

- (A) 普通原則
- (B) 平等原則
- (C) 直接原則
- (D) 無記名原則

5. () 機智搶答節目「百萬金頭腦」中出現了以下問題，聰明的你請幫忙從中選出正確答案。

【政治題】

下列各地方自治團體的「行政機關」與「立法機關」的配對，何者正確？

- 甲、彰化市公所：彰化市民代表會
- 乙、基隆市公所：基隆市民代表會
- 丙、嘉義縣政府：嘉義市議會
- 丁、關山鎮公所：關山鎮議會

- (A) 甲
- (B) 乙
- (C) 丙
- (D) 丁

6. () 下列有關我國立法委員的選舉制度，何者「錯誤」？

- (A) 「單一選區」是指將全國合併成一個區域立委選區，並選出73席區域立委
- (B) 「兩票制」是指每位選民可以拿到兩張區域立委選票
- (C) 「政黨票」由得票比例超過3%的政黨，依照得票比例分配全國不分區立委席次
- (D) 立法委員候選人最低參選年齡為23歲，連選得無限制連任

7. () 依《地方制度法》規定，我國的地方政府層級分為三級。君君打算利用寒假旅行，旅行地點預計安排在同一個地方政府層級的三個地點，他在Line群組上提問，請問下列哪一個朋友提出的建議較符合君君的條件？

- (A) 阿程：我覺得可以去竹東鎮、琉球鄉、宜蘭市
- (B) 小帆：我推薦桃園市、台東縣、台中市
- (C) 小洪：我建議去馬公市、花蓮市、新竹市
- (D) 阿宏：雲林縣、鹿港鎮、苗栗市也不錯喲

8. () 2022年台灣地方公職人員選舉（俗稱111年九合一選舉），於2022年11月26日舉行。請問：戶籍設籍在本校所在的台北市中正區的合格選民，在九合一選舉中將領到哪幾張選票？

- (A) 直轄市長、直轄市議員、里長
- (B) 縣(市)長、縣(市)議員、區長、區民代表、里長
- (C) 縣(市)長、縣(市)議員、里長
- (D) 直轄市長、直轄市議員、直轄市區長、直轄市區民代表、里長

9. () 「地方行政機關」負責推動地方自治工作，下列何者屬於「地方行政機關」？

- (A) 光復鄉民代表會
- (B) 斗六市公所
- (C) 屏東市政府
- (D) 彰化縣議會

10. () 有關公民投票的流程，下列何者正確？

- (A) 提案→公告→連署→投票
- (B) 連署→公告→提案→投票
- (C) 公告→提案→連署→投票
- (D) 提案→連署→公告→投票

11. () 下列有關直轄市山地原住民區的敘述，何者正確？

- (A) 直轄市之區由山地鄉改制者，其區長由民選產生
- (B) 區長不是直轄市市長派任，故不用執行市政府的委辦事項
- (C) 「不」享有地方自治團體的地位
- (D) 「區公所」為立法機關，「區民代表會」為行政機關

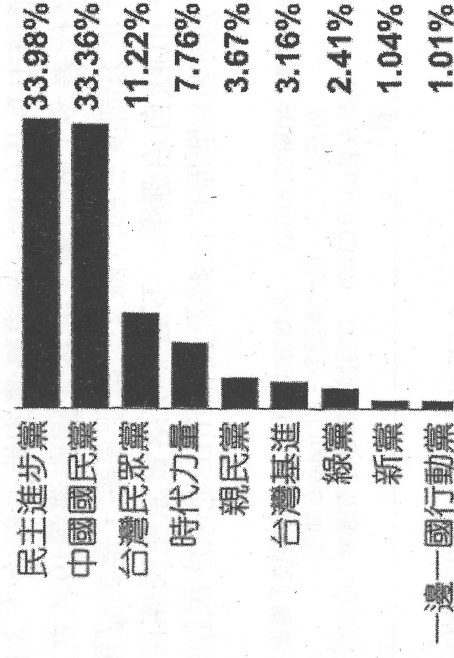
12. () 請問：對於被法院判處褫奪公權尚未復權者，下列敘述何者正確？

- (A) 沒有投票權，也沒有候選資格
- (B) 有投票權，沒有候選資格
- (C) 沒有投票權，有候選資格
- (D) 有投票權，也有候選資格

13. () 依照我國《憲法》規定，我國中央與地方政府的分權方式採「均權制度」，如果中央政府與地方政府的權限發生爭議時，應如何解決？

- (A) 由總統協調
- (B) 由立法院解決
- (C) 由司法院法官解釋
- (D) 由行政院主管機關決定

14. () 2020年政黨票得票率如下圖。請問：有幾個政黨可以取得不分區立委的席次？



- (A) 3個
- (B) 4個
- (C) 5個
- (D) 6個

15. () 下列何者為地方政府的「立法機關」之職權？

- (A) 執行上級政府委辦事項
- (B) 推動地方自治工作
- (C) 審查中央政府預算
- (D) 議決地方的各項法規

<範圍：L5~L6 >

【劃卡代號：53】

班級：

座號：

姓名：

16. () 柯臺生是科技公司的老闆，他為了實現服務社會的遠大抱負，決定投入直轄市市長的選舉。但是當他到選務機關辦理登記時，承辦人員看完他的基本資料後，卻告知他資格不符無法參選。請問：柯臺生是因為哪項資格而無法參選？

候選人基本資料

姓名：柯臺生

性別：男

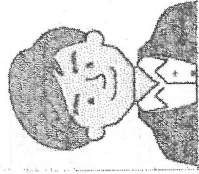
年齡：38 歲

學歷：大學肄業

戶籍地：設籍新竹市 10 年

黨籍：無

選舉理念：平安、健康、智慧



- (A) 學歷未達大學畢業門檻
 (B) 參選年齡未達法定門檻
 (C) 戶籍設籍未符合規定
 (D) 沒有政黨推薦

19. () 「垂直分權」是指政府權力分屬中央與地方等不同層級的組織分別行使。請問：依照我國相關法律規定，下列哪些事項是屬於地方政府的職權？

- (A) 審查地方政府預算
 (B) 糾正地方行政機關
 (C) 設立地方法院
 (D) 修改地方制度法

20. () 我國在公職人員選舉及公民投票上設有年齡限制，若依照下方「甲、乙、丙、丁、戊、己」各項最低年齡限制的規定，依序畫出的連接線，最接近下列何者？

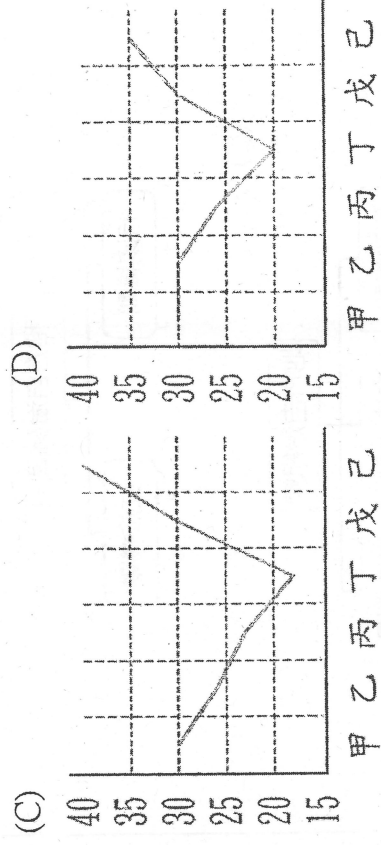
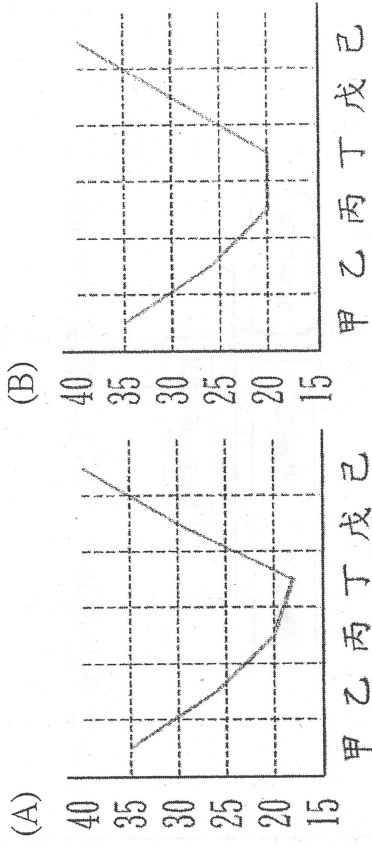
- (甲) 參選台北市長
 (乙) 參選南投縣信義鄉長
 (丙) 參選台北市中正區建國里里長
 (丁) 參舉公民投票
 (戊) 參選新竹市長
 (己) 參選總統、副總統。

17. () 關於新北市的層級敘述，下列何者正確？

- (A) 為落實民意政治，原來的「鄉（鎮、市）民代表會」皆保留
 (B) 升格後的新北市烏來區享有地方自治團體的地位
 (C) 與新竹市屬於同一層級的地方自治團體
 (D) 原本的「鄉、鎮、市」改為「區」後，區長全由市長派任

18. () 現代國家公共事務繁多，無法由全體國民親自決定與執行。公民可透過選舉選出公職人員，代替人民處理公共事務；或利用投票，針對重大議題形成集體的決議。下列有關公民投票與公職人員選舉的投票資格比較，何者正確？

選 項	公民投票 投票人	公職人員選舉 選舉人
(A)	年滿20歲的國民	年滿18歲的國民
(B)	戶籍設籍6個月以上	戶籍設籍4個月以上
(C)	未受監護宣告者	未受褫奪公權者
(D)	行使選舉權、罷免權	行使創制權、複決權



第二大題：(共10題，21~30題每題4分，共40分)

21. ()我國對中央政府與地方政府的分權方式採「均權制度」，這是依據哪一原則來畫分其職權？

- (A) 權力的制衡
- (B) 人口的多寡
- (C) 地域的大小
- (D) 事務的性質

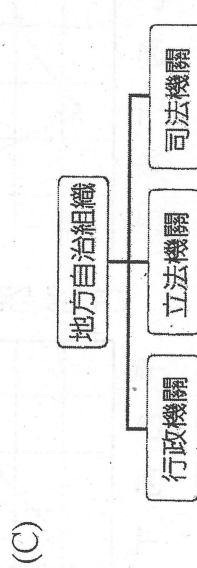
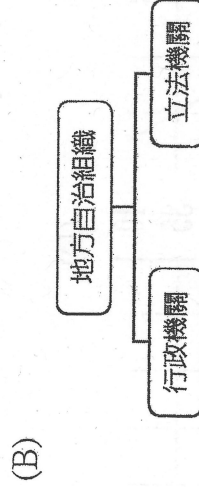
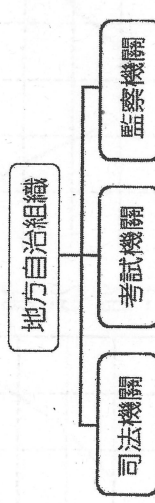
22. ()下面是公民課學習單的附圖，請你幫忙判斷圖片中被墨漬遮蔽的內容為何？

選舉我們會有兩張選票

一張投給候選人 <table border="1" style="width: 100%; border-collapse: collapse;"> <tr> <td style="width: 33%;">1</td> <td style="width: 33%;">2</td> <td style="width: 33%;">3</td> </tr> <tr> <td style="text-align: center;">●</td> <td style="text-align: center;">●</td> <td style="text-align: center;">●</td> </tr> </table>	1	2	3	●	●	●	一張投給政黨 <table border="1" style="width: 100%; border-collapse: collapse;"> <tr> <td style="width: 33%;">1</td> <td style="width: 33%;">2</td> <td style="width: 33%;">3</td> </tr> <tr> <td style="text-align: center;">●</td> <td style="text-align: center;">●</td> <td style="text-align: center;">●</td> </tr> <tr> <td style="text-align: center;">政黨 A</td> <td style="text-align: center;">政黨 B</td> <td style="text-align: center;">政黨 C</td> </tr> </table>	1	2	3	●	●	●	政黨 A	政黨 B	政黨 C
1	2	3														
●	●	●														
1	2	3														
●	●	●														
政黨 A	政黨 B	政黨 C														

- (A) 市長、市議員
- (B) 九合一
- (C) 總統
- (D) 立法委員

23. ()下列何者是我國地方自治組織的分權方式？




24. ()小丸子在網路上看到網友分享的投票懶人包圖片，請問：圖中的「投票注意」事項，是提醒投票人要遵守選舉的哪項原則？

【投票小提醒】


應攜帶物品

①○○○證件 ②印章 ③投票通知單


投票注意



不用手機



禁止拍照



勿亮票

- (A) 普通原則
- (B) 平等原則
- (C) 直接原則
- (D) 無記名原則

25. ()新年要到了，阿潔寄了幾封賀卡要給各地的朋友。請問：按照我國的行政區畫分，下列哪一封信的地址寫法正確？

(A)

613001
嘉義縣嘉義市**路**號
楊○○ 老師收

(B)

891002
金門縣金湖區**路**號
李○○ 老師收

(C)

111054
台北市士林鄉**路**號
周○○ 老師收

(D)

540020
南投縣南投市**路**號
陳○○ 老師收

26. ()2022年台灣地方公職人員選舉（俗稱111年九合一選舉），於2022年11月26日舉行。公民老師返回戶籍地金門縣金湖鎮投票時，應領到哪幾張選票？

- (A) 縣長、縣議員、鎮長、鎮民代表、里長 共五張
- (B) 直轄市長、直轄市議員、里長 共三張
- (C) 縣長、縣議員、市長、市民代表、村長 共五張
- (D) 縣長、縣議員、里長 共三張

<範圍：L5~L6 >

【劃卡代號：53】

班級：

座號：

姓名：

27. () 地方政府機關有各種不同的部門，其業務與人民生活息息相關。針對下列民眾想要辦理的事項，該去哪個部門處理才對呢？

- (A) 民眾甲：我最近剛買新房子，要來辦理房屋登記
- 義工：請至「稅捐稽徵處」。
- (B) 民眾乙：我滿 14 歲了，可以來辦身分證
- 義工：請至「警察局」。
- (C) 民眾丙：我要申請育兒津貼
- 義工：請至「社會人文課」。
- (D) 民眾丁：我已達兵役年齡，但目前仍在就學，需要申請在學緩徵
- 義工：請至「戶政事務所」。

28. () 政治參與是指人民以各種途徑，試圖影響政府或公共政策的過程。請問：民主國家中最常見的政治參與方式為何？

- (A) 示威遊行表達訴求
- (B) 投入政黨活動
- (C) 前往投票所投票
- (D) 關心時事

29. () 我國的地方政府依地方制度法規定，地方自治團體對轄內部分公共事務享有自治權限。下列哪一個選項屬於地方自治團體？

- (A) 台灣省
- (B) 台北市大安區
- (C) 幸福村
- (D) 口湖鄉

30. () 依據我國 2017 年 12 月 12 日三讀修正通過的《公民法票法》的規定，公投通過的門檻為何？

- (A) 投票人數達有投票權人總數 1/2 以上，且有效投票數過 1/2 同意者
- (B) 投票人數達有投票權人總數 1/2 以上，且有效投票數過 1/4 同意者
- (C) 同意票多於不同意票，且有效同意票達投票權人總數 1/4 以上
- (D) 同意票多於不同意票，且有效同意票達投票權人總數 1/2 以上

~ 考題結束 ~

更正第 20 題 (原圖不清晰) 如下

20. () 我國在公職人員選舉及公民投票上設有年齡限制，若依照下方「甲、乙、丙、丁、戊、己」各項最低年齡限制的規定，依序畫出的連接線，最接近下列何者？

- (甲) 參選台北市長
- (乙) 參選南投縣信義鄉長
- (丙) 參選台北市中正區建國里里長
- (丁) 參選公民投票
- (戊) 參選新竹市長
- (己) 參選總統、副總統。

